

15^{de} LENTEWANDELZOEKTOCHT van 6 maart tot 13 juni 2021



Op zoek... langs de meanders van de Leie



Hartelijk welkom op onze 15de wandelzoektocht.

Wegens Corona zijn we voor deze editie uitgeweken naar Drongen, een deelgemeente in de schaduw van de bruisende metropool Gent en op slechts enkele kilometers van het historische stadscentrum.

Een Leiedorp, dat ondanks de nabijheid van grote verkeersaders haar landelijk karakter heeft weten te bewaren. Drongen ligt ten westen van Gent en is omgeven door de wispelturige Leie die hier een idyllisch landschap van meanders en meersen heeft geboetseerd. Water- en weidevogels vinden er een onderkomen in de talrijke natuurgebieden.

Drongen kan terugblikken op een rijke geschiedenis die teruggaat tot de 8ste eeuw. De oude abdij is een van de opmerkelijkste erfenissen die zij heeft achtergelaten. De schilderachtige Leie oefende ook een speciale aantrekkingskracht uit op kunstenaars. Vooral de impressionistische schilders vonden hier inspiratie.

De bekendste Drongenaar is Kevin De Bruyne waar hij tot zijn veertiende woonde.

Tijdens een wandeling van nog geen 3 km verkennen we dit dorp. Ondertussen lossen we een 30-tal parcoursvragen en een fotovraag op met toch hier en daar een addertje onder het gras. Lees de vragen en het routeblad grondig. Deel en vergelijk je antwoorden met vrienden, dit kan helpen om tot een goed resultaat te komen.


Door de Coronacrisis zullen we uitzonderlijk overgaan tot het toekennen van geldprijzen of een evenwaardig alternatief. De eerste 9 van een verschillend gezin ontvangen respectievelijk 50€, 45€, 40€, 35€, 30€, 25€, 20€, 15€, 12€ en elke 10de in de uitslag krijgt 10€.


Succes!

De zoektocht verloopt conform de 'Spelregels & Afspraken voor zoektochten' anno 2020.

Te lezen op: www.caborazoeektochten.com

SPECIFIEK REGLEMENT

1. Met plaatselijke gegevens, gegevens op je routeblad en wat parate kennis kunnen alle vragen opgelost worden.
2. Wij gebruikten voor woordbetekenissen **Prisma 2012 en volgenden** maar ook soms de gangbare betekenis. **Uitdrukkingen** in 'Prisma' hebben steeds voorrang op de gewone betekenis.
3. De weg wordt aangegeven door genummerde opdrachten die in volgorde moeten worden uitgevoerd.
4. Tussen dubbele aanhalingstekens " " = te lezen tekst en is als dusdanig identiek terug te vinden. Niet tussen aanhalingstekens = voorwerp of afbeelding. vb. **kerk**, u moet zoeken naar 'n **kerk of 'n afbeelding** ervan. Tussen enkele aanhalingstekens = om een gegeven te **benadrukken**. vb. 'oudste' kerk.
5. Toelichtingen geplaatst tussen () houden **nooit 'n val** in.
6. **R** =rechts ; **L** =links; **RD** =recht door; **HNV** =hier niet vermeld; **vgtp** =volgens plaatselijke gegevens; **g.v.** =geen val.
7. Eén = 1; een = 'n = 1 of meer.  = sanitaire voorzieningen.
8. De klinkers zijn: a, e, i, o, u, y. De Romeinse cijfers: I= 1, V= 5, X= 10, L= 50, C= 100, D= 500, M= 1000.
9. Grootte en lettertypes spelen geen rol, spaties wel. "**WIJSNEUS**" = "**WIJSN&VS**" = "**WijSNeuS**" maar "**WIJSNEUS**" ≠ "**WIJS NEUS**". Tekens en accenten mag men wegdenken. "**CA-FÉ**" = "**CA FÉ**" en "**CAFÉ**" = "**CAFE**".
10. Verborgen in een **woord**: In "generatie" zit verborgen "gene", "era", "rat", ... Verborgen in een **tekst**: In "de oudere generatie" zit o.a. verborgen "oud", "regen", "oudere", rat,...
11. Belangrijk is het verschil tussen "**de**"/"**het**" of "**een**" in een vraag. Als bv. gevraagd wordt naar gegevens op 'een bord', en er zijn meerdere borden die aan het gevraagde voldoen, dan tel je alle gegevens op de verschillende borden samen. Vb. hoeveel maal komt een vogel voor op een bord met "Gent"? M.A.: 0 – 1 – 2 – 3 – meer dan 3. Op de drie borden samen komen 5 vogels voor. Dan is het juiste antwoord meer dan 3. Als de vraag gaat over "het bord" dan antwoord je per bord. Vb. hoeveel maal komt een vogel voor op het bord met "Gent"? M.A.: 0 – 1 – 2 – 3 – meer dan 3. Je ziet drie borden met respectievelijk 0, 2 en 4 vogels. Dan is het antwoord 0 – 2 – meer dan 3.
12. Alleen de fotovraag, de genummerde vragen en de schiftingsvragen moeten beantwoord worden. Bij een vraag gevolgd door "**K.U.**" (Kies uit) is slechts **één** antwoord mogelijk. Bij een vraag gevolgd door "**M.A.**" (mogelijke antwoorden) zijn er minstens **1 of meerdere antwoorden** juist. Daaruit moeten steeds de **VERSCHILLENDE** correcte antwoorden gekozen worden. De vragen zonder keuzemogelijkheden hebben meestal 1 antwoord maar kunnen meer dan 1 antwoord bevatten. Op geen enkele vraag mag geantwoord worden met "ONMOGELIJK", "GEEN", "NIETS", "NIEMAND", "NERGENS", .. tenzij deze onder één of andere vorm bij de mogelijke antwoorden (**M.A.**) vermeld zijn.
13. Met "**of**" wordt bedoeld één van de gegevens, vb. "een pot of een pan" = één van de twee. Met "**en/of**" wordt bedoeld één of alle gegevens, vb. "een pot en/of een pan" = één van de twee of beiden.
14. Zoek geen valstrikken in het gebruik van voorzetsels zoals op, in, aan, bij, Met 'op of aan een gevel' wordt steeds bedoeld: 'op één of andere manier verbonden of bevestigd aan die gevel'.
15. Met naam van een persoon bedoelen we voornaam + familienaam of familienaam + voornaam of alleen familienaam maar ook afgekort. JAN LUC DE VOS = DE VOS JAN LUC = DE VOS = J.L. DE VOS = J. D. VOS = J.L.D.V.
16. **Vermeld**: In "Zanger Walter De Buckplein" is De Buck vermeld. Vb. Hoeveel maal is de naam van deze zanger hier vermeld? We lezen 3x zijn volledige naam, éénmaal verborgen "De Buck" en éénmaal zijn initialen "W.D.B." dan is het antwoord 5.
17. Een bord of een plaat kan uit om het even welk materiaal bestaan (hout, metaal, steen, brons, kunststof,..).
18. Het woordje "**hier**" duidt steeds op de plaats waar je je bevindt langs het parcours. Het slaat nooit terug op de tekst in het routeblad. Natuurlijk kan het routeblad overal gelezen worden.
19. **In de omgeving van of hier** is een zoekruimte van **30 m**, **in de onmiddellijke omgeving** is een zoekruimte van **10 m** en **ter hoogte van (t.h.v.) of bij** is binnen een straal van **2 m**, alle drie met inbegrip van het herkenningpunt zelf. De **hoogte** speelt nooit een rol in de bepaling van de afstand van de zoekruimte.
20. **Graffiti (≠ muurschildering) en toevallige stickers** tellen niet mee. Hou geen rekening met **echte vlaggen, wel met spandoeken (= tussen twee stokken of uitgespannen doek)**. Ook niets zoeken achter glas, tenzij beschermglas, **gegraveerd** glas of **volledig gekleefd** of **geschilderd** op de **binnen- of buitenzijde** van het glas!
21. Alles wat de inrichter beweert moet je als waarheid aannemen.
22. Privaat eigendom mag **nooit** betreden worden. **Respecteer de privacy!**
23. De inrichters kunnen niet aansprakelijk gesteld worden voor ongevallen tijdens deze zoektocht.
24. Door deelname aan deze zoektocht gaat u akkoord met het reglement.

Belangrijk om te weten – zeker in deze coronatijden met beperkende maatregelen – is dat er in de omgeving van wegopdracht 8 – 11 – 14 (Drongenplein 4) openbare toiletten beschikbaar zijn. Gewoon onder de poort stappen en dan onmiddellijk R. 

De zoektocht start aan de gratis parking aan de achterkant van het station van Drongen.

Hoe bereiken?

Komende van de E40 Brussel-Oostende:

Afrit 13 Drongen.

Aan 'STOP' L richting Drongen.

Aan verkeerslichten RD.

Aan volgende verkeerslichten R Antoon Catrie straat = richting Drongen.

Einde straat R Drongenstation straat. Aan het einde van de straat meebuchten naar L tot de gratis parking.

Komende van de E17 & R4:

Op R4 afrit richting Drongen N466.

Aan rotonde RD = 3^{de} afslag.

Aan volgende verkeerslichten L Antoon Catrie straat OPGELET: Voorsorteren.

Einde straat R Drongenstation straat. Aan het einde van de straat meebuchten naar L tot de gratis parking.

FOTOVRAAG:

We namen op het parcours van deze zoektocht een aantal foto's. Aan sommige foto's is er wat 'geknoeid'.

We hebben iets weggelaten, gewijzigd of toegevoegd. Aan welke foto's werd er niet geknoeid?

M.A.: foto 1 – foto 2 – foto 3 – foto 4 – foto 5 – foto 6 – foto 7 – foto 8 – foto 9 – foto 10 – foto 11 – foto 12.

Om het te vergemakkelijken alleen zoeken bij wegopdrachten die worden aangegeven met dit appeltje: 🍏



1



2



3



4



5



6



7




8



9



10



11



12

1. Verlaat de parking richting grote paal met blauwe B maar los eerst aan het begin van de parking in de omgeving van het bedrijf Myriade de eerste vraag op:

Vraag 1: *Op hoeveel letters van "MYRIADE" dwarrelen sterren als sneeuwvlokken naar beneden?*

M.A.: 0 – 1 – 2 – 3 – 4 – 5 – 6 – 7.

Even voorbij de blauwe paal zien we een paar infoborden. Los met gegevens op het bord met “Groene Halte” de volgende vraag op:

Vraag 2A: Associeer elk van volgende vier cijfers met één van de vier lettercombinaties volgens gegevens te vinden op dit bord. 2 4 7 8 Be Ha Pa Zk (vb. 2Ha , 4Zk, ... g.v.)

Vraag 2B: Wat is een synoniem of betekenis van één woord dat ontstaat als je in een woord op dit bord de ‘anderskleurige’ schrapt en vervangt door één of twee andere letters?

M.A.: woede – lichaamsdeel – vruchtensap – graankorrel – stijf – ergo – vies.

Drongen is voornamelijk een landbouwgemeente met een relatief lage bevolkingsdichtheid. Twee derde van de totale oppervlakte bestaat uit landbouwgronden waarvan de helft weilanden aan de Leieoevers. Enkele landschappelijk belangrijke gebieden zoals de Bourgoyen en Ossemeersen vormen een brede scheidingsgordel met Gent.

Prehistorische vondsten in Baarlevelde en Halewijn wijzen op oude bewoning in het gebied.

Drongendorp ontwikkelde zich rond de abdij, waarvan de geschiedenis teruggaat tot de 7de eeuw. Drongens oudste vermelding stamt uit 820, toen was er sprake van het Latijnse Truncinas.

Drongen was een oude heerlijkheid en behoorde oorspronkelijk toe aan de Graaf van Vlaanderen. Vanaf de 11de eeuw viel het onder het huis van Aalst, later onder de heren van Kortrijk. Graaf Jean-Baptiste d'Hane de Steenhuyse werd in 1786 de laatste bezitter van de heerlijkheid.

Het gebied bleef lang relatief geïsoleerd. In 1823 werd de Drongensesteenweg aangelegd, die de eerste en enige rechtstreekse verbinding van het dorp met het stadscentrum van Gent vormde. In 1838 werd in oost-westelijke richting de spoorlijn Gent-Brugge aangelegd, en die vormde een belangrijke nieuwe verkeersader. Enkele bedrijven vestigden zich in Drongen. In 1950 werd de autosnelweg E5, de latere A10/E40, aangelegd. De Gentse Ringvaart kwam er in 1969, net ten noorden van Drongen. Op 1 januari 1977 verloor Drongen zijn zelfstandigheid, en fuseerde met Gent.

Kevin De Bruyne is opgegroeid in Drongen. Hij liep er school en was tot 1999 aangesloten bij voetbalclub KVV Drongen. Aan de Keiskant, de wijk waar hij woonde, herinneren ze hem nog goed. Het gras en de beplantingen van de zorgvuldig onderhouden tuintjes van de burens werden door Kevin regelmatig aan flarden geschoten.

'Omdat ik op den duur te veel bloemen en struikjes kapot schoot, mocht ik van de buurman niet meer met rechts trappen. Met mijn rechter kon ik als klein gastje blijkbaar al iets te goed overweg. Zijn bezwaar had wel een enorm voordeel: ik kon mijn linker oefenen', zegt De Bruyne in zijn biografie 'Keep it Simple'. *'Ik wist toen al: voetbal is mijn spelletje.'*

In 1999 ruilde hij de club voor KAA Gent. Als 14-jarige trok hij naar KRC Genk en verliet hij zijn geboortedorp. In Genk verbleef de jonge puber in een gastgezin, waar hij mentaal een uiterst moeilijke periode doormaakte. Na een seizoen was hij niet langer welkom in het gastgezin, dat hem te introvert, asociaal en eigengereid vond. Noodgedwongen verhuisde de zestienjarige De Bruyne naar een pensionaat voor moeilijkere kinderen. Hij herpakte zich en nam sportieve revanche door harder te trainen en tijdens een invalbeurt bij de tweede ploeg vijfmaal in één speelhelft te scoren. De nare ervaring met het gastgezin gold naar eigen zeggen als een levensles voor zijn zeer succesvolle carrière.

Elk jaar organiseert KVE Drongen de KDB Cup, een internationaal voetbaltornooi voor spelers jonger dan 15 jaar. Kevin De Bruyne schonk zijn naam aan het tornooi en is betrokken bij de organisatie.

2. Keer terug en wandel naar L 'Drongenstation straat' HNV. Links wandelen en links zoeken. 🍎

Vraag 3: Welk hemellichaam en/of ruimteschip is afgebeeld op je wandeling tot wegopdracht 3?

M.A.: de zon – een raket – een sateliet – de maan – een capsule
– een ruimtewagen – de blauwe planeet.

Vraag 4: We hebben een duidelijk te lezen woord gecodeerd met beelden.

We hebben echter de zes beelden door elkaar gehaald. Rangschik de zes beelden in de juiste volgorde en noteer zo de juiste zescijfercode op het antwoordblad.

TIP: Volgens de uitspraak is het een krankzinnig insect.



1



2



3



4



5



6

Begeef je naar de oplaadpaal voor elektrische auto's even vóór de viersprong:

Vraag 5: Wat is het verschil tussen het aantal afbeeldingen van een hand te zien op deze oplaadpaal en het aantal afbeeldingen van een laadkabel te zien bij deze oplaadpaal?

K.U.: 0 – 1 – 2 – 3 – 4 – 5.

3. Viersprong L 'Antoon Catrie straat' en wandel tot aan de bibliotheek. 🍎

Los ondertussen de drie volgende vragen op. Rechts wandelen en rechts zoeken (ook in het parkje):

Op een muur in het parkje is een herdenkingssteen aangebracht voor een Pools oorlogsslachtoffer.

Vraag 6: Op deze herdenkingssteen lezen we een aantal woorden beginnend met de letter 'P'.

Wat is een synoniem van een woord dat je kan vormen met vier opeenvolgende letters van het woord beginnend met de letter 'P', gebeiteld op een steen op bedoelde muur?

M.A.: plas – staart – stut – been – geld – bovenlijf – gang.

Vraag 7: Van welk decennium vinden we een jaartal (bestaande uit 4 cijfers) terug?

M.A.: 1^{ste} – 2^{de} – 3^{de} – 4^{de} – 5^{de} – 6^{de} – 7^{de} – 8^{ste} – 9^{ste} – 10^{de}.

Vraag 8: Het logo van de bibliotheek, meermaals te zien, bestaat uit een aantal geometrische figuren.

Stel dat je de hoeken van elke veelhoek verbindt met een rechte lijn naar een andere hoek in dezelfde veelhoek, hoeveel driehoeken zou dit logo dan in het totaal tellen?

K.U.: minder dan 37 – 37 – 38 – 39 – 40 – meer dan 40.

(TIP: Met een vierhoek kan je 4 driehoeken maken g.v.)

4. Keer t.h.v. de bibliotheek terug naar de viersprong.

Los ondertussen nog een speurdersvraagje op. (Niets meer zoeken in het parkje g.v.):

Vraag 9: Van welke Europese staat is in dit stukje straat de naam vermeld?

M.A.: België – Frankrijk – Duitsland – Italië – Groot-Brittannië – Nederland.

5. Viersprong L 'Oude-Abdij straat'. Links wandelen links zoeken. 🍎 🍎

De toenmalige Norbertijnenabdij van Drongen, die het patronaat over de parochie Drongen bezat, liet in 1773 de **Sint-Gerolf Pastorie** bouwen. De Norbertijnenkanunnik Ludovicus De Saegher, was hier toen pastoor. Ook na de Franse revolutie blijft het gebouw als pastorie behouden. Hierdoor verkreeg zij later het juridisch statuut van "presbyterium" d.w.z. de plaats of het gebouw dat de gemeente of stad verplicht ter beschikking van de pastoor moet stellen. Van 1969 tot 1977 was deze pastorie de zetel van een dekenij.

In de aankleding van het interieur zijn nog heel wat 18de-eeuwse versieringselementen aanwezig. De omheiningmuur in neogotische stijl dateert uit 1928 en is ontworpen door de Drongense beeldhouwer Domien Ingels (meer over hem verder). Deze beeldhouwer restaureerde ook het O.L.V-beeld in renaissancestijl, dat in de kapel naast de muur is geplaatst.



Ondanks de opwarming van de aarde verwachten ze hier blijkbaar nog Siberische temperaturen:

Vraag 10: Wat is de minimumtemperatuur die de wat verderop te vinden thermometer kan weergeven?

M.A.: lager dan -35°C – hoger dan -25°C – tussen -25°C en -30°C – tussen -30°C en -35°C – tussen -35°C en -40°C.

Wandel tot de zaak met huisnummer 24:

Vraag 11: Wat zou je binnen in deze zaak kunnen horen afgaande op wat hier sinds 1928 gemaakt wordt?

M.A.: klok-en-hamerspel – een klokgelui – een klokslag – tiktak – een voorslag – een onomatopée.

6. Driesprong RD. 'Drongenplein' HNV. Links wandelen en links zoeken.

7. Driesprong RD. Blijft 'Drongenplein' HNV. Blijven links wandelen en links zoeken. 🍎

Herberg Sint Anthone op de hoek van de Vierhekenstraat en het Drongenplein duikt in de oude registers voor het eerst op in 1575 als hofstede “belast aen den heere van Dronghene”. Later werd het uitgebaat als herberg die een belangrijke rol speelde in de geschiedenis van Drongen. In 1653 zetelde hier immers de vierschaar. Dat de vierschaar of schepenbank in dit gebouw een belangrijke rol speelde, blijkt onder meer uit justitiële archiefstukken. Talrijke veroordelingen voor diefstal, oplichting, overspel, prostitutie, enz. werden in deze herberg uitgesproken. De vierschaar was ook bevoegd voor het innen van tolgeld en belastingen. Een zekere Marten Vleerincx pleegde op 26 november 1653 een diefstal in een brouwerij gelegen nabij de Leie. Hij stal een aantal biervaten en rolde ze in de Leie om de vaten te laten meedrijven met de stroming en ze zo wat verder op te vissen. Zijn plan mislukte. De vaten werden onderschept door dorpingen en dit onttaarde langs de oevers van de Leie tot een drankfestijn dat tot in de kleine uurtjes duurde. Spijtig voor de arme dief, hij werd opgepakt nog voor het drankfestijn begon en werd de volgende dag ‘met een droge keel’ aan een schandblok voor de herberg te kijk gezet. In de annalen vinden we ook nog het verhaal van drie gewapende mannen die Pieter De Deckere, de toenmalige waard, samen met zijn gezin gijzelden. De trawanten verplichtten de waard de koffer met het tolgeld te openen en af te geven. Het gebouw, als beschermd monument geklasseerd in 1975, werd gerestaureerd in 1978.

Vraag 12: Een hier te lezen cijferlettercombinatie hebben we omgevormd volgens een bepaalde logica tot de cijferlettercombinatie **A 254 HHH**. Welke cijferlettercombinatie lezen we juist boven deze cijferlettercombinatie?



Domien Ingels (1881-1946) beeldhouwer, graficus en schilder werd geboren in de Gentse volksbuurt de Brugse Poort. Hij verbleef en werkte vanaf 1913 in Drongen. Deze succesvolle kunstenaar was vanaf 1900 leraar tekenen en beeldhouwkunst aan de Gentse academie. Hij was één van de zeldzame beeldhouwers in Vlaanderen die in deze eeuw het dier en vooral het paard als uiting van hun kunst hebben gekozen. Niet zo verwonderlijk, als zoon van een slager was hij goed vertrouwd met de anatomie van dieren. Hij gooide zich ook op de keramiek en vervaardigde heel wat van die paardjes in een expressionistische stijl. Daarnaast boetseerde hij ook windhonden, olifanten en beren waarvan hij in circussen schetsen ging maken. In de art deco periode waren dieren sculpturen trouwens zeer in trek, zowel in brons als in keramiek. Zijn dierenbeelden verkochten als zoete broodjes waardoor hij er een luxueuze levensstijl op kon nahouden. Hij was ook bevriend met Constant Permeke met wie hij een atelier deelde in het Gentse begijnhof. Door zijn technische vaardigheid leerde hij Permeke de knepen van het vak.

Domien Ingels was getrouwd met schilderes Marie-Louise Pauwaert. Ook zijn dochter Rosa beoefende de schilderkunst en de beeldhouwkunst. Hij overleed door een verkeersongeval in Bachte-Maria-Lerne. Ingels maakte ook naam met het Ros Beiaard gemaakt voor de wereldtentoonstelling van 1913 en het monument Koning Albert in het Gentse Zuidpark. Het bas-reliëf van het oorlogsmonument dat we later zullen bekijken is ook van zijn hand.

8. Driesprong RD ‘Domien Ingels straat’.  ← eventueel even naar R Drongenplein 4. Los tot de volgende wegopdracht de twee volgende vragen op:

Vraag 13: Volgende woorddelen, EN – KOOP – KLE – GA – ZIN – GEEF, maken deel uit van een hier te lezen tekst. Wat is de kleur die geassocieerd is met elk van deze woorddelen?
1) blauw – 2) groen – 3) rood – 4) paars – 5) oranje. (vb. EN 5 – KOOP 3..)

Met gegevens op het spandoek van de zaak met huisnummer 9:


Vraag 14: Hoeveel letters blijven er over in een op dit spandoek vermeld woord wanneer je in dat woord de naam schrapt van een voorwerp dat eveneens op dit spandoek is afgebeeld?
M.A.: 0 – 1 – 2 – 3 – 4 – 5 – 6 – 7 – 8 – 9.

9. Driesprong R ‘Oude Gentweg’: 

Vraag 15: Welke van volgende gegevens zijn te zien in deze straat?
M.A.: “Primes” – de naam van een arts – een shawl – een groot roofdier – een trapgevel.

Begeef je naar het huis waar blijkbaar een grote kattenvriend woont:

Vraag 16: We zien op twee geëmailleerde bordjes dezelfde omcirkelde witte angorakat. Hoeveel letters telt het langste woord (aantal letters) dat zich bevindt op het geëmailleerd gegeven met omcirkelde witte angorakat?
M.A.: 4 – 5 – 6 – 7 – 8 – 9.

10. Einde straat R 'Veerstraat': 

Vraag 17: *Onze naam, in de betekenis volgens woordenboeken, laat uitschijnen dat we een hoedende taak hebben. Hier helpen we het klaar en helder te houden, dat is toch andere koek. Ons vrouwelijk naampje kan je nog meer in de war brengen want wij komen hier ook mannelijk en animaal voor. Met hoeveel, in menselijke gedaante, zijn we te zien in de omgeving van het pand waar je volgens de naam kennis kon vergaren?*

K.U.: *minder dan 7 – 7 – 8 – 9 – 10 – meer dan 10.*

De beschermde **Pontbrug** was vroeger de enige toegangsweg tot Gent vanuit het Westen en is een uniek stuk betonarchitectuur gelegen op de plaats waar tot in 1900 een veerpont voor de overtocht zorgde.

Tussen 1900 en 1918 lag hier een brug uit gewapend beton die in 1918 bij het einde van de oorlog door de terugtrekkende Duitsers werd vernietigd. In 1920 werd een noodbrug aangelegd. De huidige Pontbrug werd gebouwd in 1926 naar een ontwerp van ingenieur Louis Roelandt.

De brug is van het vierendeeltype: het brugdek wordt gedragen door twee vierendeelliggers. Een vierendeelligger, zo genoemd naar zijn uitvinder Arthur Vierendeel, is een vakwerkligger, in staal of gewapend beton, zonder diagonalen in de opeenvolgende vakken.

Deze brug is de enige vaste verbinding voor wegverkeer tussen Drogenen en het landelijk gebied De Assels, dat als een eiland tussen twee Leiearmen en de Ringvaart gelegen is.

Vanaf deze brug heb je een mooi zicht op de abdij.

11. Driesprong L en wandel naar de brug:  ← eventueel even naar R Drogenenplein 4.

Vraag 18: *Hoewel wij ons hier op het platteland bevinden zien we in de omgeving van de Pontbrug een bos van verkeersborden. Mag over deze brug gereden worden met: (Telkens één antwoord)*


A: *een snelheid van meer dan 30 km/uur?*

B: *een voertuig waarvan de hoogte, lading inbegrepen, hoger is dan 3 meter?*

C: *een voertuig waarvan de breedte, lading inbegrepen, 10,99 meter is?*

D: *een voertuig waarvan de tonnage in beladen toestand minder dan 44 ton is?*

E: *een karrenvracht?*

12. Voorbij de brug driesprong RD. 

Los eerst in de omgeving van deze driesprong de volgende vraag op:

Vraag 19: *We zien hier een aantal straatnaamborden. Op twee identieke borden is in de straatnaam een naam van een zaal voor bijeenkomsten verborgen.*

Wat is de som van de cijfers van het jaartal vermeld op bedoeld bord?

(Niets zoeken op de achterkant van de borden)

M.A.: *een vijfvoud – een zesvoud – een zevenvoud – een achtvoud – een priemgetal.*

In 1862 stichtte Victor De Meyer **herberg 'In den Karpel'**. In die periode bood de herberg verpozing voor vissers die naar hier kwamen om een lijntje uit te gooien langs de Leie voor het vangen van de hier talrijke aanwezige karpers.

De naam van de afspanning (karpel is Gents voor karper) zegt genoeg.

Tot het begin van de twintigste eeuw stond karper ook bij ons op het menu. In Midden- en Oost-Europa neemt karper nog steeds een belangrijke plaats in op het menu.

Vandaag is 'In de Karpel' een druk bezochte taverne en restaurant. Haar idyllische ligging in een bocht van de Leie en het uitzicht op de imposante gebouwen van de Oude Abdij van op het terras, maakt haar tot een gegeeerde stopplaats voor wandelaars, fietsers en genietters van het goede leven.

13. Wandel ongeveer 130 m verder tot aan de Y-sprong. Los hier in de omgeving de volgende vraag op:

Vraag 20A: *Met drie opeenvolgende letters van een woord te lezen in de blauwe tekst op een bordje, meermaals te zien hier langs de oever van de Leie, kan je de naam vormen van een knaagdier. Welke naam van een soortgenoot, hier hoogstwaarschijnlijk aanwezig, bekom je wanneer je vóór de bekomen naam een ander woord, ook te lezen op dit bordje, toevoegt?*

Vraag 20B: *Kan je met opeenvolgende letters van een ander woord, hier vermeld op het bordje met blauwe tekst, de naam van een andere knaagdier vormen? Zo ja, noteer dan die naam.*

14. Keer nu terug richting brug. Wandel over de brug tot aan de zuil met “Loopomloop”:

Vraag 21: In de tekst op deze zuil is tot tweemaal toe dezelfde spelfout gemaakt. Welke spelfout?

K.U.: een letter te veel – een letter te weinig – de verkeerde letter –
een leesteken te weinig – een leesteken te veel.
(Niets zoeken in een toponiem g.v.)

De Oude Abdij weerspiegelt in het water van de Leie. Wie naderbij komt, ziet de indrukwekkende abdijgebouwen. Dat de tand des tijds zijn sporen naliet, is niet te verwonderen. Van de oorsprong tot vandaag telt deze plek elf eeuwen geschiedenis. Weinig religieuze sites in Vlaanderen kunnen op een zo lange en unieke, maar ook complexe geschiedenis terugblikken.

Het echte verhaal van de Oude Abdij Drongen begint in de tiende eeuw. Het bestaan van een kanunnikengemeenschap vanaf 915 staat min of meer vast. In dat jaar liet Boudewijn II van Vlaanderen er de relieken van Sint-Gerolf uit Merendree onderbrengen.

In 1138, werd de stichting van Iwein van Aalst, een abdij te Salegem, naar Drongen overgebracht.

De abdij herbergde een 50-tal bewoners die zich vooral aan zielzorg en landbouw wijdden.

Het wapenschild toonde een witte zwaan drijvend tussen lis, met de spreuk *vita brevis* - het leven is kort.

In 1566 had de abdij sterk te lijden onder de Beeldenstorm en werden de paters verdreven door de Gentse Calvinisten. De abdij werd vervolgens geplunderd, openbaar verkocht en grotendeels gesloopt. De bezittingen kwamen in handen van Willem van Oranje. Oranjes erfgenamen echter schonken de bezittingen die in beslag genomen waren in 1609 terug. Vanaf 1638 worden de abdijgebouwen heropgebouwd.

Een zware brand, door een onweer veroorzaakt, vernielt in 1727 de toren, de peperbus. De heropbouw is voltooid in 1734. Tijdens de Franse Revolutie worden de Norbertijnen door de Franse sansculotten verjaagd. De abdij wordt door de Franse regering te koop aangeboden. Lieven Bauwens kocht de abdij en bracht er zijn tweede katoenspinnerij onder.


In 1837 kochten de jezuiten een gedeelte van de abdijgebouwen om er hun noviciaat (opleiding in het geestelijk leven) te vestigen. De overige gebouwen bleven tot 1848 eigendom van een kleurstoffenfabriek.

In 1878 wordt de nieuwe neogotische kapel gebouwd. In 1880 wordt het retraitshuis gebouwd, aan de kant van de brug. Tijdens de beide wereldoorlogen was de abdij een schuilplaats voor burgers en vluchtelingen en een verblijfplaats voor soldaten: kazerne en/of hospitaal, en dit afwisselend voor de beide oorlogvoerende legers.

Vanaf het einde van de jaren vijftig wordt de opleiding van jonge jezuiten in de Oude Abdij afgebouwd. Zo werd de hele abdij een bezinningscentrum, op één vleugel na, de voormalige abtswoning, die een rusthuis voor bejaarde paters werd.



15. We wandelen nu verder over het kasseivoetpad langs de abdij tot aan het oorlogsmonument.

 ← Eerst eventueel even straat oversteken Drongenvlein 4.

De zoekruimte voor de volgende 6 vragen is de omgeving van de abdij, het park voor de abdij en het oorlogsmonument. De vragen zijn niet altijd gesteld in de volgorde van je wandelrichting. 

Aan een gevel van de abdij vinden we op een bordje een summier grondplan van de abdij:

Vraag 22: Als je weet dat 1 cm op dit plan staat voor een afstand van 10 m hoe ver ben je dan volgens dit plan verwijderd van de ingang van de abdij als je de kortste weg neemt?

M.A.: minder dan 120 m – meer dan 120 m – tussen 120 en 140 m – tussen 140 en 180 m – meer dan 180 m.

Begeef je in het park tot aan het groot infobord:

Vraag 23: Hoeveel jaren verliepen er tussen de bouw van de toren van de abdijkerk en het bijna volledig verdwijnen van de abdijkerk volgens gegevens op het infobord met “Oude Abdij”?

Begeef je naar het oorlogsmonument maar eerst:

Vraag 24: *Op een kerkgebouw, in de omgeving van het oorlogsmonument, zien we in grote cijfers Romeinse jaartallen. Hoeveel tijd verliep er in de periode tussen twee jaren die in grote Romeinse cijfers vermeld zijn op een kerkgebouw in de omgeving van het oorlogsmonument?*
M.A.: *minder dan 100 jaar – 100 jaar – meer dan 100 jaar – 1200 maanden – 24 schrikkeljaren.*

Vraag 25: *Noteer voor elk van onderstaande beweringen op uw antwoordenblad een 'W' als de bewering WAAR is of een 'NW' als de bewering NIET WAAR is. (Telkens één antwoord)*
A: *Er is één echtpaar vermeld op het oorlogsmonument.*
B: *19 personen vermeld op het oorlogsmonument zijn gestorven na het einde van de Grote Oorlog.*
C: *Van niemand, overleden vóór de Tweede Wereldoorlog, is hier de sterfdatum vermeld.*
D: *Er is één zoogdier afgebeeld op het oorlogsmonument.*
E: *Gustaaf is de meest voorkomende voornaam op het oorlogsmonument.*
F: *Op het oorlogsmonument vinden we een dankwoord.*

Vraag 26: *Welke benaming voor een dier, dat wordt meegenomen omdat het geluk zou brengen, bekom je als je aan een achternaam van een persoon vermeld op dit oorlogsmonument de laatste drie letters van een andere achternaam eveneens vermeld op dit oorlogsmonument toevoegt?*

Vraag 27: *Dit oorlogsslachtoffer kreeg er een elfde bij, wat kreeg zijn evenbeeld er dan bij?*

Begeef je naar de steen met "Lootens Adolf":

Deze Adolf verrichtte zo te zien beschavingswerk in Afrika. Het is maar de vraag of men er nu, met al de heisa rond Leopold II, nog zo over denkt. Hopelijk wordt deze steen hier tijdens de zoektocht niet weggehaald.

Vraag 28: *Wat was 'Adolf' volgens gegevens hier?*

M.A.: *een boer – een pionier – een soldaat – een geestelijke – een opzichter.*

16. Wandel nu verder RD 'Oude-Abdij straat'. Links wandelen links zoeken:

Vraag 29: *Als we de som van de cijfers vermeld op de steen met "Alfons Byn" omzetten in de cijferwaarde van de letters in het alfabet, hoeveel letters telt dan het woord op deze steen waarin deze letter voorkomt? (vb. 2021: som der cijfers = 5 = letter E = 5de letter van het alfabet)*
M.A.: *2 – 3 – 4 – 5 – 6 – 7 – 8 – 9 – 10 – 11 – 12.*

17. Viersprong RD 'Drongenstation straat' maar eerst in de omgeving van de school :

Een wat cryptische vraag op te lossen met gegevens te zien op één van de talrijke borden aan deze school:

Vraag 30: *We zien een kleurrijk geheel. Het allegaartje bestaat uit vier paren en een alleenstaande. Welke kleur heeft deze alleenstaande? Gebruik je verstand, zoals onder deze alleenstaande wordt vermeld, en je zal de oplossing op deze vraag wel vinden zeker?*

Los om te eindigen even verder bij een dierenvriend nog een eenvoudig vraagje op : 

Vraag 31: *Wat wordt je volgens gegevens aangeraden te delen?*

18. Op het einde van de straat kom je terug aan het station en wandel je naar L terug naar de parking.

Hier eindigt de zoektocht.

We hopen dat jullie enkele aangename en leerrijke momenten hebben beleefd tijdens deze zoektocht. Bekijk ook regelmatig onze website www.caborazoechtten.com voor eventuele wijzigingen.

Vergeet niet te antwoorden op de hierna volgende schiftingsvragen:

Schifting 1: Geef de laatste vier cijfers van het jokergetal van de lottotrekking van zaterdag 19 juni 2021.
Schifting 2: Geef het reservegetal van diezelfde lottotrekking.

Het antwoordenblad uiterlijk versturen op dinsdag 15 juni 2021 naar:

lentezoektochtgent@telenet.be of Jacques Van Bruaene Sint-Michielsstraat 4 9000 Gent

Deze zoektocht telt mee voor het kampioenschap van zoektochtvereniging ROS beiaard, de West-Vlaamse Rallyvrienden (W.R.V.) en rallyclub CABORA.

Samenstelling: Jacques Van Bruaene en Alix Liefoghe

AANVRAAG ANTWOORDENBLAD(EN)

Hoe tewerk gaan?

- 1 Vul op onze website: www.caborazoechtchten.com het aanvraagformulier in:
Vermeld het aantal gewenste antwoordbladen en de naam van de deelnemer(s).
- 2 Stort per deelnemingsformulier 5€ op de rekening van Cabora.
- 3 Van zodra we de storting ontvangen hebben ontvang je per mail het antwoordenblad met een unieke code.

alle info op: www.caborazoechtchten.com

Bent je nog geen lid van een zoektochtenvereniging ?

Word lid van CABORA

Ben je geïnteresseerd in het zoektochtgebeuren?

Wil je er op regelmatige tijdstippen nieuws over ontvangen?

Wens je een beetje begeleiding als nieuweling in de hobby?

Sluit dan aan bij Rallyclub CABORA !!!

Voor slechts € 10.00 per persoon ben je een heel jaar lid van onze club.

Ontvang je om de drie maand ons digitaal clubblad de Weergalm, met specifiek Cabora nieuws, besprekingen van zoektochten, een caboraadse, een zoektochtenkalender en nog veel meer...

Hoe word je lid?

Stort de som van € 10.00 op rekening BE57 8900 1485 1135 ten name van rallyclub Cabora.

Dan ben je lid van Cabora tot eind 2021.

Meer inlichtingen?

Ga naar onze website www.caborazoechtchten.com en vul het contactformulier in.

